

Тест по географии 10-11 класс. Готовимся к экзаменам.

1. Какая из перечисленных городских агломераций является наиболее крупной по численности населения.

- А) Стамбул;
- Б) Лондон;
- С) Пекин;
- Д) Мехико.

2. Какая из перечисленных стран входит в состав ОПЕК?

- А) Норвегия;
- Б) Саудовская Аравия;
- В) Канада;
- Г) Казахстан.

3. Дополните фразу:

Форма правления, при которой высшая законодательная и исполнительная власть в стране принадлежит выборным органам, называется..... .

4. Какой цифрой на карте обозначена Курская АЭС?



- А) 1;
- Б) 2;
- В) 3;
- Г) 4.

5. В каком из следующих утверждений содержится информация о процессе урбанизации?

- А) Численность и плотность населения увеличивается в тех странах и регионах, где наиболее высок естественный прирост населения.
- Б) Половина населения мира живет в сельской местности, а общее количество сельских населенных пунктов составляет 15-20 миллионов.
- В) Крупные города образуют зону притяжения, формируя городские агломерации из множества близко расположенных городов и поселков.
- Г) В наименее развитых странах проживает более 60 миллионов человек со среднедушевым ВВП 100-300 долларов в год.

6. Установите соответствие между каждым из природных ресурсов и видом, к которому он относится.

ПРИРОДНЫЕ РЕСУРСЫ

- 1) Энергия ветра
- 2) Геотермальная энергия
- 3) Молибденовые руды
- 4) Почва

ВИД ПРИРОДНЫХ РЕСУРСОВ

- А) исчерпаемые невозобновимые
- Б) исчерпаемые возобновимые
- В) неисчерпаемые

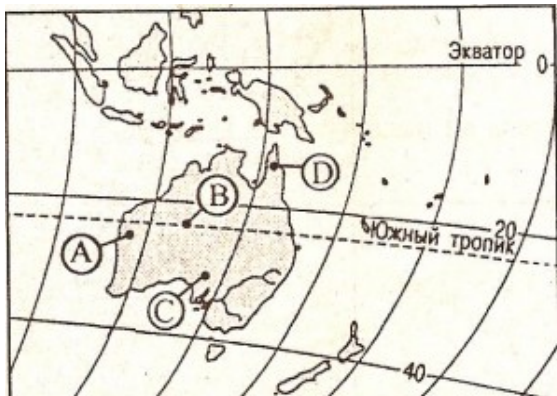
7. Используя данные из приведенной ниже таблицы, сравните ресурсообеспеченность стран пресной водой. Расположите страны в порядке уменьшения этого показателя.

| | Страна | Ресурсы пресной воды, км ³ | Численность населения, млн. чел. |
|---|-----------|---------------------------------------|----------------------------------|
| А | Венесуэла | 1320 | 28 |
| Б | Канада | 2900 | 33 |
| В | Индия | 2085 | 1132 |

8. Какое из утверждений о движении воздушных масс является верным?

- А) Бризы меняют свое направления дважды в год.
- Б) В тропических широтах господствуют западные ветры.
- В) Летом муссоны дуют с океана на материк.
- Г) В умеренных широтах господствуют пассаты.

9. В каком из пунктов, обозначенных на карте Австралии буквами, в течение года выпадает наибольшее количество осадков?



- А) А;
- Б) В;
- В) С;
- Г) D.

10. Негативное влияние на состояние окружающей среды оказывает:

- А) сооружение высоких труб на ТЭС;
- Б) перевод транспорта на газ;
- В) использование вторичного сырья;
- Г) перевод ТЭС с газа на уголь.

11. Установите соответствие между страной и ее столицей

СТРАНА

- 1) Канада
- 2) Ирак
- 3) Иран

СТОЛИЦА

- А) Тегеран
- Б) Багдад
- В) Дамаск
- Г) Оттава

12. Определите регион России по его краткому описанию.

По численности населения эта республика является второй в своем регионе. Доля коренного населения составляет чуть более 20%. Это народ тюркской группы,

исповедующий ислам. В структуре промышленности выделяются нефтяная, химическая и нефтехимическая отрасли. Республика известна как один из крупнейших в стране поставщиков синтетического каучука, пластмасс и соды. Достаточно большое значение в экономике республики играет и сельское хозяйство. В первую очередь речь идет о зерновом хозяйстве. Кроме того, именно здесь исторически сложилось пчеловодство.

Ответ: Республика Башкортостан

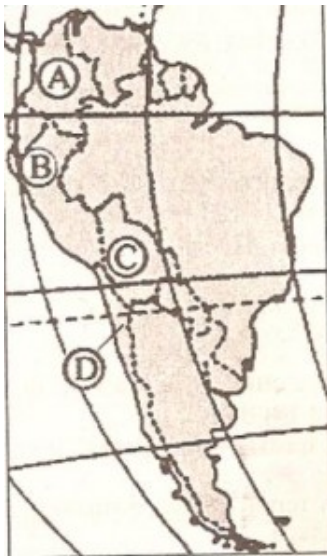
13. Какие три из перечисленных городов Российской Федерации являются крупными центрами производства алюминия в России?

- А) Краснотурьинск;
- Б) Дальнегорск;
- В) Липецк;
- Г) Шелехов;
- Д) Красноярск;
- Е) Челябинск.

14. Основным районом добычи какого полезного ископаемого в России является Дальний Восток?

- А) оловянных руд;
- Б) нефти и газа;
- В) медных руд;
- Г) горючих сланцев.

15. Какой буквой на политической карте Южной Америки обозначено государство Перу?



- А) А;
- Б) В;
- В) С;
- Г) D.

16. Какой из перечисленных городов является наиболее крупным по численности населения?

- А) Воркута;
- Б) Киров;
- В) Волгоград;
- Г) Братск.

17. Какой из угольных бассейнов России лидирует по добыче каменного угля?

- А) Донецкий;
- Б) Печорский;
- В) Кузнецкий;
- Г) Ленский.

18. Агроклиматические ресурсы какой из перечисленных территорий позволяют выращивать рис и чай?

- А) Республики Дагестан;
- Б) Республики Калмыкия;
- В) Ставропольского края;
- Г) Краснодарского края;

19. Крупнейшим центром по производству минеральных удобрений в Самарской области является

- А) Самара;
- Б) Тольятти;
- В) Новокуйбышевск;
- Г) Чапаевск.

20. Какой буквой на карте мира обозначен пролив Дрейка?



- А) А;
- Б) В;
- В) С;
- Г) D.

22. Какой из перечисленных экономических районов лидирует в России по валовому сбору подсолнечника?

- А) Центральный;
- Б) Уральский;
- В) Северо-Кавказский;
- Г) Западно-Сибирский.

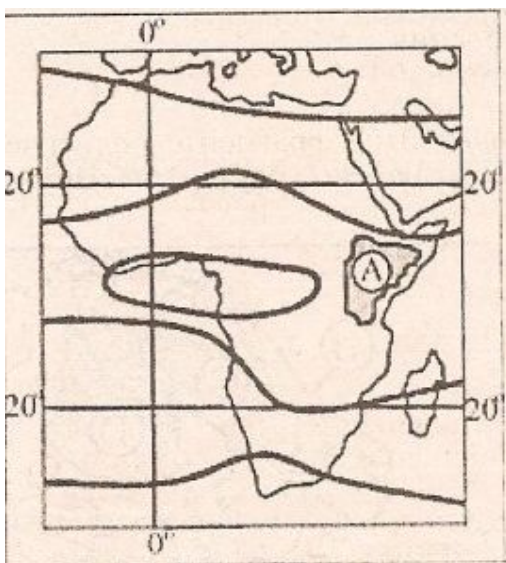
23. Какой из морских портов Севера и Северо-Запада России является незамерзающим?

- А) Архангельск;
- Б) Северодвинск;
- В) Санкт-Петербург;
- Г) Мурманск.

24. Какой из перечисленных городов России является крупным центром черной металлургии?

- А) Тюмень;
- Б) Новокузнецк;
- В) Омск;
- Г) Иркутск.

25. В каком климатическом поясе расположена территория, обозначенная на карте Африки буквой А?



- А) экваториальном;
- Б) субэкваториальном;
- В) тропическом;
- Г) субтропическом.

26. Укажите район России, в котором нет центров нефтепереработки:

- А) Центральный;
- Б) Центрально-Черноземный;
- В) Северный Кавказ;
- Г) Западно-Сибирский.

27. Путешествуя поездом «Москва – Владивосток» можно увидеть... (найдите одно неверное утверждение):

- А) Новосибирск – крупный центр машиностроения, металлургии и пищевой промышленности.
- Б) Байкал – самое глубокое в мире озеро.

- В) Якутск – крупный культурный и научный центр на северо-востоке России.
- Г) Реку Амур, которую Транссиб пересекает в районе Хабаровска.

28. Решающим фактором строительства большинства АЭС в Европейской части России является:

- А) большие залежи урановых руд;
- Б) высокая потребность в электроэнергии;
- В) развита транспортная сеть;
- Г) высокая плотность населения.

29. Установите соответствие:

Центр отрасли

1. Волжский
2. Энгельс
3. Казань
4. Самара

Промышленность

- А) вертолетостроение
- Б) ракетостроение
- В) синтетический каучук
- Г) производство троллейбусов

30. Укажите порт Атлантического бассейна в России:

- А) Выборг;
- Б) Николаев;
- В) Мурманск;
- Г) Краснодар.

Ответ: А

31. Какие из перечисленных микросоударств находятся в Европе?

- А) Монако, Андорра, Лихтенштейн;
- Б) Бруней, Ватикан, Сан-Морино;
- В) Андорра, Люксембург, Лесото;
- Г) Ватикан, Кувейт, Гренада.

1. Определив страну по ее краткому описанию, ответьте на следующие вопросы:

А) В состав какого крупного государства она входила до 1947 года?

Б) С какими государствами граничит?

В) Членом какого Содружества является?

Государство расположено в Азии. Около 98% его населения составляют бенгалцы. Свыше 80% населения исповедуют ислам, имеется около 10 млн. индуистов. Отличается высоким естественным приростом населения – около 3% в год и является одной из самых густонаселенных стран мира (средняя плотность около 500 чел./1 км²).

В экономике страны главная роль принадлежит сельскому хозяйству. Около 2/3 населения занято в агросекторе в производстве риса и других культур первой необходимости. Страна поставляет 80% мирового экспорта джутовых волокон. Из-за дешевой рабочей силы конкурентоспособная и растущая отрасль текстильной промышленности приносит $\frac{3}{4}$ доходов от экспорта товаров. Страна относится к числу наименее развитых стран мира.

2. Внимательно изучите группы стран и ответьте на вопросы:

А) Какое государство в каждой группе является «лишним»?

Б) Какой признак объединяет все четыре группы оставшихся государств?

В) По какому признаку объединяются два оставшихся государства в каждой группе?

Г) По какому признаку можно объединить в одну группу четыре «лишних» страны?

1. Оман, Катар, Турция.

2. Индия, Камбоджа, Малайзия.

3. Саудовская Аравия, Казахстан, Бруней.

4. Кувейт, Пакистан, Япония.

3. Прочитайте фрагмент с Федерального портала protown.ru:

«Ведущее место в реализации стратегии формирования инновационного профиля экономики Самарской области занимает автомобильный кластер. Для него характерна наиболее высокая концентрация организаций автомобильной промышленности и наиболее высокая доля автомобильной промышленности в структуре ВРП среди всех субъектов Приволжского федерального округа. В данном кластере сконцентрировано

около 40% производства, 40% занятых, 65% основных фондов промышленности, 25% затрат на исследования и разработки, 20% экспорта Самарской области.

«Корневой» организацией автомобильного кластера Самарской области является крупнейшая российская автомобильная компания ОАО «АвтоВАЗ». Его доля в российском производстве легковых автомобилей составляет 75%, ниша на внутреннем российском рынке — 40%, ценовой сегмент — средний. Поставщиками деталей и комплектующих для ОАО «АвтоВАЗ» являются порядка 700 компаний с общей численностью занятых около 2 млн. чел. ОАО «АвтоВАЗ» входит в десятку ведущих российских компаний, имеющих наибольшие объем выручки и численность персонала».

Ответьте на вопрос: какие особенности ЭГП Самарской области способствовали развитию в ней автомобилестроения? Укажите две особенности.

4. Используя приведенные в таблице данные, определите, в какой из стран – Марокко, Казахстане или Болгарии – показатель смертности в расчете на 1 тыс. жителей наибольший. Для обоснования своего ответа запишите необходимые числовые данные или рассуждения. Объясните, почему в этой стране показатель смертности наибольший.

Демографические показатели Марокко, Казахстана и Болгарии

| Показатели | Марокко | Казахстан | Болгария |
|--|---------|-----------|----------|
| Общая численность населения, млн. чел. | 31,7 | 15,3 | 7,7 |
| Доля детей до 15 лет, % | 34 | 27 | 13,9 |
| Доля лиц старше 65 лет, % | 4 | 8 | 17,4 |
| Рождаемость, ‰ | 21 | 18 | 9 |
| Естественный прирост, ‰ | 15 | 8 | -5 |
| Ожидаемая продолжительность жизни, лет | 70 | 68 | 72 |
| Доля городского населения, % | 55 | 57 | 70 |

Ответ: Показатель смертности в расчете на 1 тыс. жителей наибольший в Болгарии. В Болгарии показатель смертности (-14 ‰) / или 9- (-5). Наибольший показатель смертности связан с наибольшей долей лиц старше 65 лет в возрастной структуре населения Болгарии

5. Прочитайте фрагмент газетной статьи.

«В 2006 году начато строительство нового нефтепровода «Восточная Сибирь – Тихий океан». При его строительстве будут использоваться новейшие технологии, призванные обеспечить надежность его эксплуатации в условиях низких температур и вечной мерзлоты. Против прокладки трассы нефтепровода в непосредственной близости от озера Байкал возражали ученые-экологи, которые говорили о неизбежности экологической катастрофы в случае аварии на будущем нефтепроводе. Под их влиянием было принято решение об изменении трассы трубопровода». Какие особенности территории, по которой должен был пройти нефтепровод, заставляли ученых говорить о высокой степени вероятности аварии на нефтепроводе и неизбежности, в этом случае, загрязнения вод озера Байкал? Укажите две особенности.

Ответ: Высокая сейсмическая активность территории. Эта территория относится к водосборному бассейну озера Байкал / или трасса нефтепровода пересекает реки, впадающие в Байкал